






# Les figures de notes

Comme nous l'avons déjà appris, la position d'une note sur la portée détermine la hauteur du son. Pour exprimer la durée d'une note, on utilise différentes figures de notes. Il y a cinq figures principales de notes qui expriment des durées différentes :


La ronde	
La blanche	
La noire	
La croche	
La double-croche	

La ronde représente la durée la plus longue et les autres figures qui suivent représentent à chaque fois la moitié de la précédente. Par exemple, la ronde vaut :

- 2 blanches, c'est-à-dire la blanche est égale à  $1/2$  de la ronde,
- 4 noires, c'est-à-dire la noire est égale à  $1/4$  de la ronde,
- 8 croches, c'est-à-dire la croche est égale à  $1/8$  de la ronde,
- 16 doubles-croches, c'est-à-dire la double-croche est égale à  $1/16$  de la ronde.

Afin de faciliter la lecture, on peut relier plusieurs croches ou double-croches qui se suivent par une barre horizontale.

*Exercice n° 4 : La ronde est prise comme unité de valeur et les autres figures de notes sont considérées comme des fractions de la ronde. Afin de vous familiariser avec ces rythmes, voici quelques exemples à dire à haute voix. Vous pouvez dire le nom des figures de notes comme blan-che, noire et deux croches.*



### Questions à choix multiples

1. Il existe 4 figures de notes qui expriment toutes les durées différentes.
  - a. Vrai
  - b. Faux
2. La ronde vaut :
  - a. trois noires
  - b. deux blanches
  - c. trois blanches
3. La blanche vaut :
  - a. deux noires
  - b. trois noires
  - c. six croches
4. La noire vaut :
  - a. quatre croches
  - b. trois doubles-croches
  - c. deux croches
5. La croche vaut :
  - a. deux noires
  - b. deux blanches
  - c. deux doubles-croches
6. Quatre croches valent :
  - a. deux noires
  - b. trois noires
  - c. une ronde
7. Huit croches valent :
  - a. une ronde
  - b. trois blanches
  - c. six noires

8. Deux blanches valent :
  - a. trois noires
  - b. quatre noires
  - c. seize croches
  
9. Lorsque plusieurs croches ou doubles-croches se suivent, on peut :
  - a. les enlever
  - b. les relier avec une barre
  - c. les manger
  
10. Deux noires sont équivalentes à :
  - a. une blanche
  - b. deux blanches
  - c. huit croches
  
11. La ronde représente la durée la plus longue.
  - a. Vrai
  - b. Faux
  
12. Une croche plus deux doubles-croches sont équivalentes à :
  - a. deux noires
  - b. une noire
  - c. une blanche
  
13. La noire vaut la moitié de la ronde.
  - a. Vrai
  - b. Faux
  
14. Quatre doubles-croches sont équivalentes à une croche.
  - a. Vrai
  - b. Faux
  - c. Toutes ces questions m'agacent !